

Komisionálna skúška z prvouky – 2. ročník / Písomná časť

Meno žiaka : _____ Dátum : _____ Trieda : _____

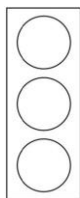
Škol. rok. : _____

Pečiatka školy

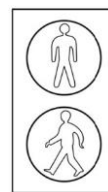
1. Napíš názvy 5 dopravných prostriedkov: (5 bodov)

2. Vymal'uj, čo vidí na semafore: (2 body)

vodič, keď stojí:




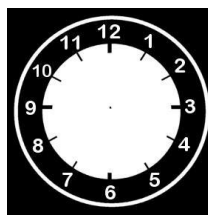
chodec, keď prechádza cez priechod:



3. Vymenuj aspoň 2 štátne symboly: (2 body)

4. Urči a zakresli čas: (2 body)





9 hodín

5. Rok: (5 bodov)

počet mesiacov v kalendárnom roku: _____

počet mesiacov v školskom roku: _____

posledný mesiac v kalendárnom roku: _____

prvý mesiac v školskom roku: _____

názvy pracovných dní v týždni: _____

6. Napíš číslo tiesňovej linky: (1 bod)

7. Aký úžitok ma človek z týchto zvierat? (6 bodov)

pes _____ krava _____

mačka _____ kôň _____

prasa _____ sliepka _____

8. Vypíš 4 prejavy života rastlín: (4 body)

9. Čo potrebuje rastlina pre život? (5 bodov)

10. Podľa obrázkov pomenuj sviatky: (4 body)



Stupnica :

36 b – 30 b = 1, 29 b – 24 b = 2, 23 b – 16 b = 3, 15 b – 9 b = 4, 8 b – 0 b = 5

Písomná časť: Počet bodov : _____ Znamka : _____

Ústna časť: Znamka : _____

Celková známka: _____

Skúšajúci: _____

Podpis:

Komisionálna skúška z prvouky – 2. ročník / Ústna časť

Meno žiaka : _____ Dátum : _____ Trieda : _____

Škol. rok. : _____

Pečiatka školy

1. Vymenuj, čo môže tvoriť krajinu.
2. Kto a čo riadi dopravu?
3. Vymenuj 4 ročné obdobia. Ku každému povedz aspoň 3 charakteristické znaky.
4. Vymenuj názvy kalendárnych mesiacov, ako idú za sebou.
5. Odpovedaj na otázky:
 - Aký deň bol včera?
 - Aký deň nasleduje po nedeli?
 - Aký deň bude zajtra?
6. Vymenuj aspoň 5 živočíšnych spoločností.
7. Ako získava človek potravu?

Známka : _____